

VY_V/2_INOVACE_23_ZMěsíc a
vesmír – pracovní list

Miroslav Kaňok

2011

Základní škola a Mateřská škola Úvalno,
okres Bruntál, příspěvková organizace
793 91 Úvalno 19



evropský
sociální
fond v ČR



EVROPSKÁ UNIE



MINISTERSTVO ŠKOLSTVÍ,
MLÁDEŽE A TĚLOVÝCHOVY



OP Vzdělávání
pro konkurenceschopnost

INVESTICE DO ROZVOJE VZDĚLÁVÁNÍ

Anotace

Registrační číslo projektu: 4191/21/7.1.4/2011

Škola – adresa: Základní škola Úvalno, okres Bruntál, příspěvková organizace, 793 91 Úvalno 19, www.skola-uvalno.ic.cz

Šablona: V/2 č. 23

Ověření ve výuce (dne): 16. 11. 2011

Třída: 5. ročník

Předmět: Přírodověda

Název: Textový editor

Anotace: Pracovní list je zaměřený na práci s učebnicí, internetem i jinými zdroji a výkladu učitele. Jedná se o opakování a procvičení učiva – Země a vesmír.

Autor: Bc. Miroslav Kaňok, DiS.

Jazyk: čeština

Očekávaný výstup: Písemně tvoří zápis, aktivně uvažuje

Speciální vzdělávací potřeby: -

Klíčová slova: Měsíc, podoby, vesmír, zatmění, družice

Rozvíjené klíčové kompetence: kompetence pracovní a k řešení problémů

Druh učebního materiálu: pracovní list

Druh interaktivity: aktivita

Cílová skupina: žák

Stupeň a typ vzdělávání: základní vzdělávání –první stupeň

Typická věková skupina, ročník: 11 – 12 let, pátý

Celková velikost: 624 kB

Vazby na ostatní materiály:

(Seznam dokumentace)

1. Přirozenou družicí Země je




má tvar _____ .

Země jej přitahuje svou _____ silou.


_____ vlastním světlem. _____ na něm život .

Má _____ přitažlivost než Země.

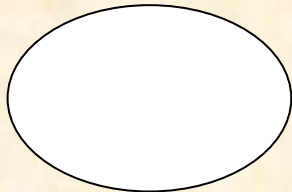
2. Dopln k obrázkům názvy podob Měsíce a doplň chybějící text



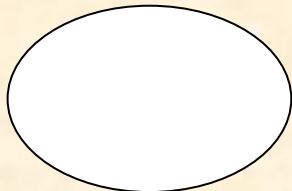
Měsíc je nepozorovatelný (nachází se mezi _____ a Zemí).



Měsíc _____, má tvar písmena D.



Je vidět _____ polokoule Měsíce, je to 14 dní po _____.



Měsíc couvá, má tvar písmena ____ až do doby, kdy je opět v novu (přibližně za 30 dní)

3. Nalezni v učebnici, na internetu, v encyklopedii informace o výpravách lidí do vesmíru

- V roce _____ byla vypuštěna první umělá družice Země, která se jmenovala _____. Nakresli její obrázek.

- 1961 _____ (J. Gagarin)

- V roce _____ přistáli první lidé na Měsíci. Zapiš to nejdůležitější, co zjistíš:

Použité zdroje

- Kholová H. Přírodověda pro pátý ročník – Země ve Vesmíru. Praha: Alter, 1997. 40 s.
- Dostupný pod licencí GNU Free Documentation License na WWW:
 - http://commons.wikimedia.org/wiki/File:Full_Moon_Luc_Viatour.jpg