

VY_V/2_INOVACE_17_Země -
pracovní list

Miroslav Kaňok

2011



Základní škola a Mateřská škola Úvalno,
okres Bruntál, příspěvková organizace
793 91 Úvalno 19



evropský
sociální
fond v ČR



EVROPSKÁ UNIE



MINISTERSTVO ŠKOLSTVÍ,
MLÁDEŽE A TĚLOVÝCHOVY



OP Vzdělávání
pro konkurenceschopnost

INVESTICE DO ROZVOJE VZDĚLÁVÁNÍ

Anotace

Registrační číslo projektu: 4191/21/7.1.4/2011

Škola – adresa: Základní škola Úvalno, okres Bruntál, příspěvková organizace, 793 91 Úvalno 19, www.skola-uvalno.ic.cz

Šablona: V/2 č. 17

Ověření ve výuce (dne): 7. 11. 2011

Třída: 5. ročník

Předmět: Přírodověda

Název: Textový editor

Anotace: Pracovní list je zaměřený na práci s učebnicí, internetem i jinými zdroji a výkladu učitele. Jedná se o opakování a procvičení učiva na téma Země.

Autor: Bc. Miroslav Kaňok, DiS.

Jazyk: čeština

Očekávaný výstup: Písemně tvoří zápis, aktivně uvažuje

Speciální vzdělávací potřeby: -

Klíčová slova: Země, den, noc, roční období

Rozvíjené klíčové kompetence: kompetence pracovní a k řešení problémů

Druh učebního materiálu: pracovní list

Druh interaktivity: aktivita

Cílová skupina: žák

Stupeň a typ vzdělávání: základní vzdělávání –první stupeň

Typická věková skupina, ročník: 11 – 12 let, pátý

Celková velikost: 1330 kB

Vazby na ostatní materiály:

(Seznam dokumentace)

1. Popiš obrázek a doplň texty

Zmenšený model Země se nazývá

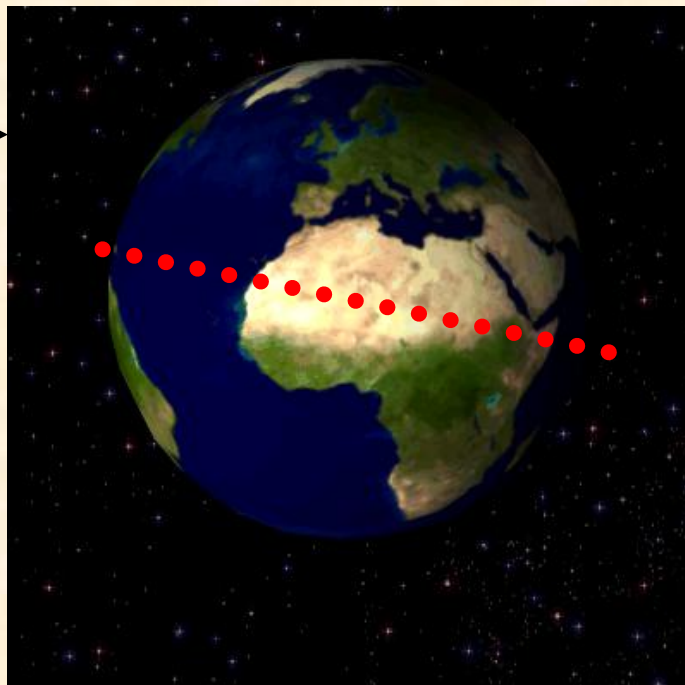


Země má tvar _____

Severní a _____

Polokouli od sebe odděluje

(pomyslná čára).




2. Střídání dne a noci způsobuje (doplň obrázek)



Sluneční svit

Země se _____
kolem své osy přibližně za
_____ hodin.



Zde je na Zemi

Zde je na Zemi




3. *Doplň do obrázku, co způsobuje střídání ročních období*

Roční období se střídají, protože




_____ Začíná na severní polokouli _____.
Den má ___ hodin a noc ___ hodin. Je _____

21. 6. Začíná na severní polokouli léto.
Den má 16 hodin a noc pouhých 8. Je letní slunovrat.



_____ Začíná na severní polokouli _____.
Den má _____ hodin a noc _____ hodin . Je _____

___. 9. Začíná na severní polokouli _____.
Den má 12 hodin a noc ___ hodin. Je _____
_____ rovnodennost.



Na jižní polokouli je to

Použité zdroje

- Kholová H. Přírodověda pro pátý ročník – Země ve Vesmíru. Praha: Alter, 1997. 40 s.
- [cit. 2011-9-22]. Dostupný pod licencí Creative Commons na WWW:
 - [http://commons.wikimedia.org/wiki/File:Rotating_earth_\(large\).gif](http://commons.wikimedia.org/wiki/File:Rotating_earth_(large).gif)
 - <http://commons.wikimedia.org/wiki/File:Sun920607.jpg>